

課題

月 日

完全矯正の上からC - 3.0DAX90°を装用した場合、スリット板をどのような方向にすると良く見えるか？

裂孔板をまわして解答しよう。

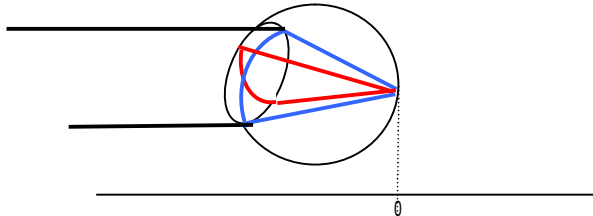
又、その理由を簡単に説明しなさい。

完全矯正の上からC - 3.0D AX90° を装用した場合、スリット板をどのような方向にすると良く見えるか？

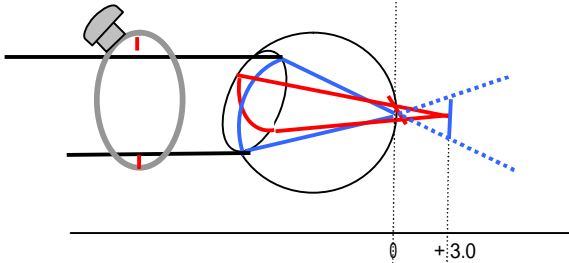
裂孔板をまわして解答しよう。

又、その理由を簡単に説明しなさい。

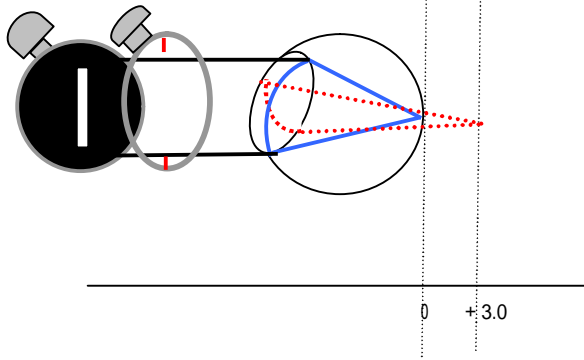
完全矯正の状態



C-3.0D AX90° 装用



90° にスリットを装用する



180° 方向が遮られる